



**SECRETARIA MUNICIPAL DE EDUCAÇÃO
ATIVIDADES COMPLEMENTARES DE ESTUDO – COVID 19
22º ROTEIRO DE ATIVIDADES COMPLEMENTARES DE ESTUDO – COVID 19**

ALUNO (A): _____

ESCOLA MUNICIPAL PARIGOT DE SOUZA

PROFESSOR: CELIA VERRI E SUELI DUTRA

TURMA: SRM – GRUPO 3

COMPONENTES CURRICULARES: LÍNGUA PORTUGUESA E MATEMÁTICA

PERÍODO DE REALIZAÇÃO: 06/10/2020 A 09/10/2020

<p>ESTE É O 22º ROTEIRO DE ATIVIDADES PARA SER REALIZADO NA SEMANA DE 06/10/2020 A 09/10/2020.</p> <p>ATENTE-SE À EXPLICAÇÃO DA PROFESSORA NO GRUPO DA TURMA E PEÇA AJUDA PELO WHATSAPP SEMPRE QUE PRECISAR!!!</p> <p align="right">UM ABRAÇO, PROFESSORAS.</p>	
<p>O QUE VOCÊ VAI ESTUDAR:</p>	<ul style="list-style-type: none"> • LÍNGUA PORTUGUESA: PALAVRAS INICIADAS COM A LETRA T, APÓS OBSERVAR UMA CENA, DEVERÁ IDENTIFICAR, COLORIR E ESCREVER OS OBJETOS SELECIONADOS. • PRODUZIR TEXTO APÓS A OBSERVAÇÃO DE IMAGENS, RESPEITANDO A SEQUÊNCIA DOS FATOS. • MATEMÁTICA: BUSCAR ESTRATÉGIAS E REALIZAR OPERAÇÕES MATEMÁTICAS PARA SOLUCIONAR SITUAÇÕES PROBLEMAS E DESAFIO MATEMÁTICO.
<p>PARA QUE VAMOS ESTUDAR ESSES CONTEÚDOS?</p>	<p>LÍNGUA PORTUGUESA:</p> <ul style="list-style-type: none"> • EXERCITAR A LEITURA E A ESCRITA. • ESTIMULAR A OBSERVAÇÃO. • DESENVOLVER O RACIOCÍNIO E A INTERPRETAÇÃO. • DESENVOLVER A ATENÇÃO E A PERCEPÇÃO VISUAL. • ESTIMULAR A CRIATIVIDADE. <p>MATEMÁTICA:</p> <ul style="list-style-type: none"> • DESENVOLVER O RACIOCÍNIO LÓGICO. • ESTIMULAR A OBSERVAÇÃO. • REALIZAR SITUAÇÕES PROBLEMA. • INTERPRETAR.
<p>COMO VAMOS REGISTRAR O QUE APRENDEMOS?</p>	<ul style="list-style-type: none"> • VAMOS REGISTRAR O QUE APRENDEMOS ATRAVÉS DE RESPOSTAS ESCRITAS NA FOLHA DE ATIVIDADES, RELATOS ESCRITOS E ORAIS, CÁLCULOS ESCRITOS E MENTAIS, ATRAVÉS DE ILUSTRAÇÃO, OBSERVAÇÃO DE TEXTOS E IMAGENS, INTERPRETAÇÃO DE TEXTO.

**SECRETARIA MUNICIPAL DE EDUCAÇÃO
ATIVIDADES COMPLEMENTARES DE ESTUDO – COVID 19**

➤ **TERÇA-FEIRA - 06/10/2020**

MATEMÁTICA

LEIA E RESOLVA COM ATENÇÃO. FAÇA AS CONTAS NO ESPAÇO AO LADO.

Em uma caixa há 15 morangos.
Quantos morangos há
em 5 caixas?



1

@professoralela

A mãe de Davi deu a ele 2 dúzias de
cartinhas e ele dividiu igualmente com
seu irmão. Quantas cartinhas ficaram
pra cada menino?



2

@professoralela

Carolina tinha R\$ 248,00. Gastou R\$ 132,00.
Com quantos reais ficou?



3

@professoralela

Rafael comprou um tablet em 3 prestações de
R\$ 120,00. Quanto ele irá pagar pelo tablet?



4

@professoralela

**SECRETARIA MUNICIPAL DE EDUCAÇÃO
ATIVIDADES COMPLEMENTARES DE ESTUDO – COVID 19**

➤ **QUARTA-FEIRA - 07/10/2020**

LÍNGUA PORTUGUESA

PINTE APENAS AS FIGURAS QUE INICIAM COM A LETRA T.



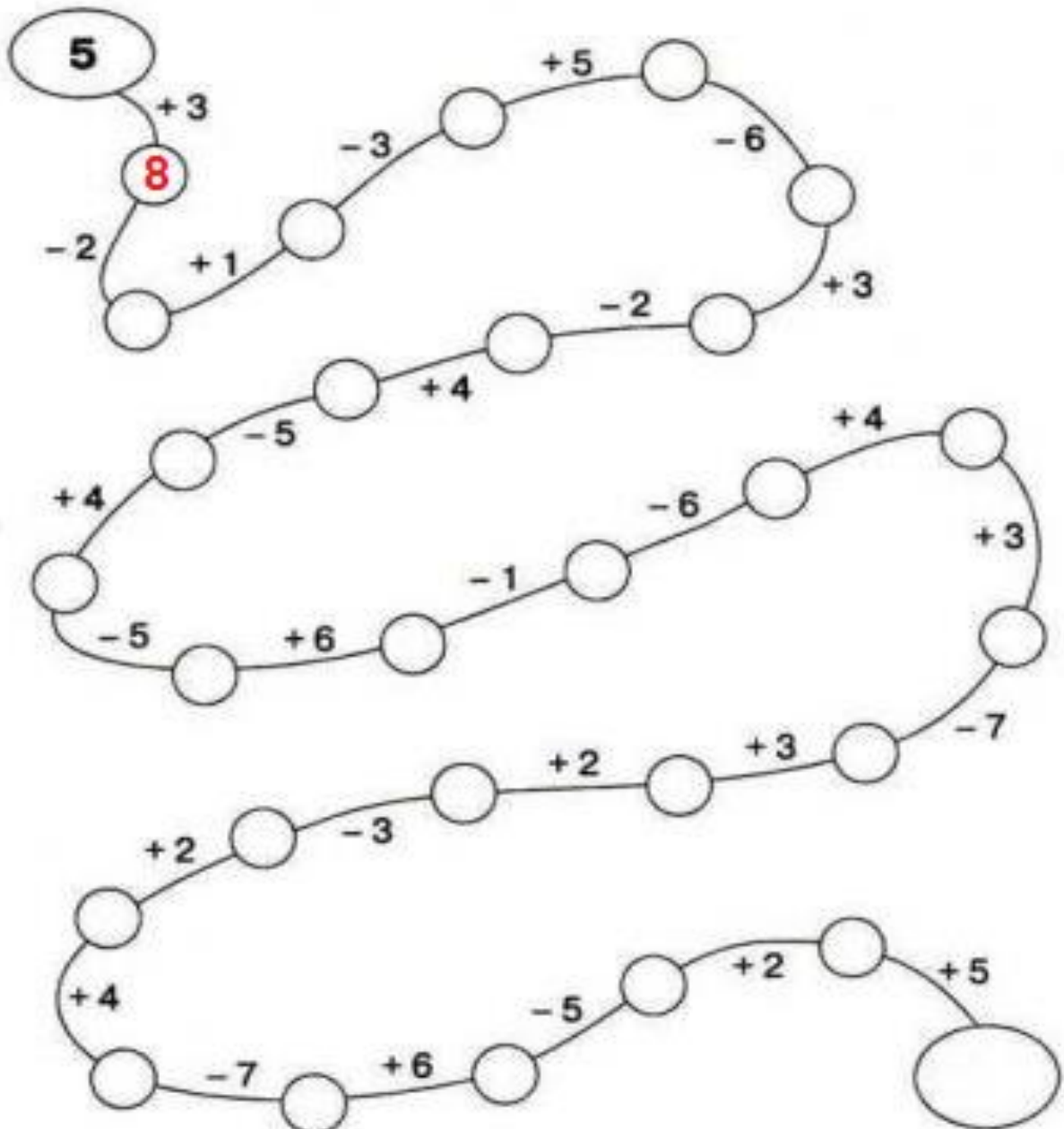
AGORA, FAÇA UMA LISTA DOS OBJETOS QUE VOCÊ PINTOU.

➤ QUINTA-FEIRA - 08/10/2020

MATEMÁTICA

LABIRINTO DE MATEMÁTICA.

ENCONTRE OS RESULTADOS. VOCÊ PODE USAR PALITOS, TAMPINHAS, LÁPIS,
PARA AJUDAR A CALCULAR.





**SECRETARIA MUNICIPAL DE EDUCAÇÃO
ATIVIDADES COMPLEMENTARES DE ESTUDO – COVID 19**


➤ **SEXTA-FEIRA - 09/10/2020**


LÍNGUA PORTUGUESA

ESCREVA O QUE SE PASSA EM CADA IMAGEM:









NÃO SE ESQUEÇA DE DAR UM TÍTULO PARA A HISTÓRIA.